

الإصحاحات التاريخية

الأسبوع الثامن اليوم الأول

في هذا الدرس سوف

الأهداف

- ١- تقييم الإصحاحات التاريخية في سفر ارميا كقاعدة يمكن اعتمادها لتركيب هذا السفر.
- ٢- تضع المعلومات التاريخية التي نجدها في مكانها في مخطط تاريخي.

- ١- في الأسبوع الثامن والأسبوع التاسع، سنعود إلى الخلفية التاريخية في أثناء دراستنا للإصحاحات ٢٦-٢٩ و ٣٢-٤٥ و ٥٢. تلاحظ أنه يبقى لدينا الإصحاحات ٣٠-٣١ و ٤٦-٥١ وهي التي سندرسها في الأسبوع الأخير.
إن جميع الإصحاحات التي سندرسها في الأسبوعين الثامن والتاسع مكتوبة في شكل _____ بينما وجدنا أن الإصحاحات التي درسناها في الأسبوع الماضي كانت مكتوبة في شكل _____.
- ٢- إن الحوادث التاريخية المذكورة في هذه الإصحاحات التسعة عشر من النثر هي في غالبيتها حوادث جرت في حياة (النبي ارميا / ملك يهوذا) _____
(راجع الإصحاحات المذكورة لتجد الإجابة).
- ٣- إن هذه الحوادث مع كونها تتعلق بالنبي هي أيضاً ذات صلة بالملك. فإذا نظرت بسرعة إلى الآيات الافتتاحية لكل حادثة- وهي غالباً الآيات الأولى في الإصحاح - فإنك تلاحظ ذكر الملك الحاكم آنذاك. بل وأحياناً تجد التاريخ مذكوراً هناك أيضاً.
املاً الفراغات في القوائم التالية مستخدماً المخطط التاريخي (سأملأ بعضاً منها):

التاريخ	الملك أو الحاكم	الحدث	الآيات
حوالي ٦٠٨ ق.م	يهوياقيم	عظة الهيكل	٢٤-١:٢٦
حوالي		الأنبياء	٢٢-١:٢٧
			١٧-١:٢٨
			٢٣-١:٢٩
			٤٤-١:٣٢
قبل ٥٨٧ ق.م	صدقيا		٢٦-١:٣٣

			٢٢-١:٣٤
			١٩-١:٣٥
			٣٢-١:٣٦
			٢١-١:٣٧
		قبل ٥١٧ ق.م.	١٣-١:٣٨
		قبل	٢٨-١٤:٣٨
		قبل	١٠-١:٣٩
			١٨-١١:٣٩
	جدليا	بعد	١٦-١:٤٠
			١٨-١:٤١
	لا حاكم	بعد	٢٢-١:٤٢
	لا حاكم		١٣-١:٤٣
	لا حاكم		٣٠-١:٤٤
			٥-١:٤٥
			٣٤-١:٥٢

(راجع إجاباتك بنفسك)

٤- إن إلقاءنا نظرة سريعة على هذه الملاحظات التاريخية يكشف لنا عن أن هذا الجزء التاريخي يضع الاهتمام الأعظم على (الجزء الباكر من خدمة ارميا / النصف الأخير من خدمة ارميا / السنوات الأخيرة من خدمة ارميا) _____

٥- إن أكثر الحوادث جرت في فترة حكم الملك _____

٦- إن هذه الحوادث (جميعها / إلى حد بعيد / ليست) _____ مرتبة ترتيباً تاريخياً.

٧- ما هي الإصحاحات الثلاثة التي حسبما يظهر موضوعه في الترتيب التاريخي لهذا القسم من السفر؟ _____

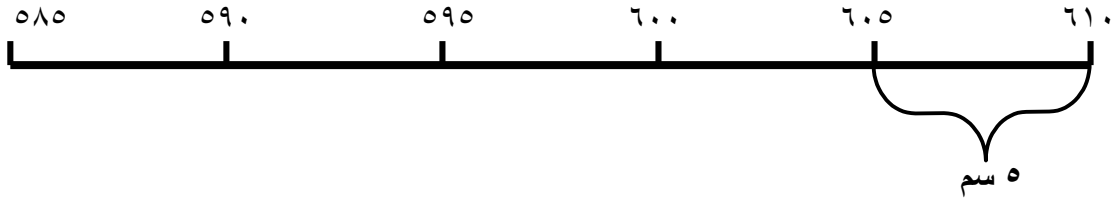
٨- إذا استعرضت بسرعة أقسام السفر السابقة تلاحظ أنه تقريباً ليس هناك أي ذكر لتاريخ الحوادث. (ارميا ٦:٣) يذكر يوشيا. والإصحاح السابع (بالارتباط مع الإصحاح ٢٦) يشير إلى يهوياقيم. (ارميا ٢٢) يذكر مصير يهوآحاز (شلوم) ويهوياقيم. (ارميا ٢٤) يجعل رؤيا التين سنة ٥٩٨ ق.م. أو بعدها. (ارميا ٢٥) يشير إلى السنة الرابعة من حكم يهوياقيم. لهذا نلاحظ أن تركيب سفر ارميا (مؤسس / غير مؤسس) _____ على مسح تاريخي متوازن لكل فترة خدمة ارميا.



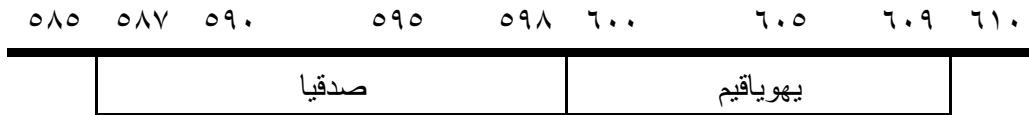
٩- إننا الآن سنجمع حقائق هذا المسح الأولي ونضع ملاحظتنا فيما يختص بهذه الحقائق. هل من الممكن استخدام هذا القسم التاريخي كقاعدة نبنى عليها السفر ونضع على هذه القاعدة كل النبوات في باقي السفر؟ (أجب "نعم" أو "لا") _____ . والآن أذكر السبب لإجابتك.

١٠- على الرغم من أن هذا القسم من السفر لا يقدم لنا أساساً أو قاعدة مناسبة للسفر كله، ومع أنه لا يغطي غير فترة محدودة جداً وليس هو تاريخياً بكل ما في الكلمة من معنى، فهو على أية حال سيكون نافعاً لنا لنضع كل الحقائق التي لدينا في مخطط تاريخي. (تذكر أننا سنضطر إلى التخمين في تقرير بعض التواريخ).

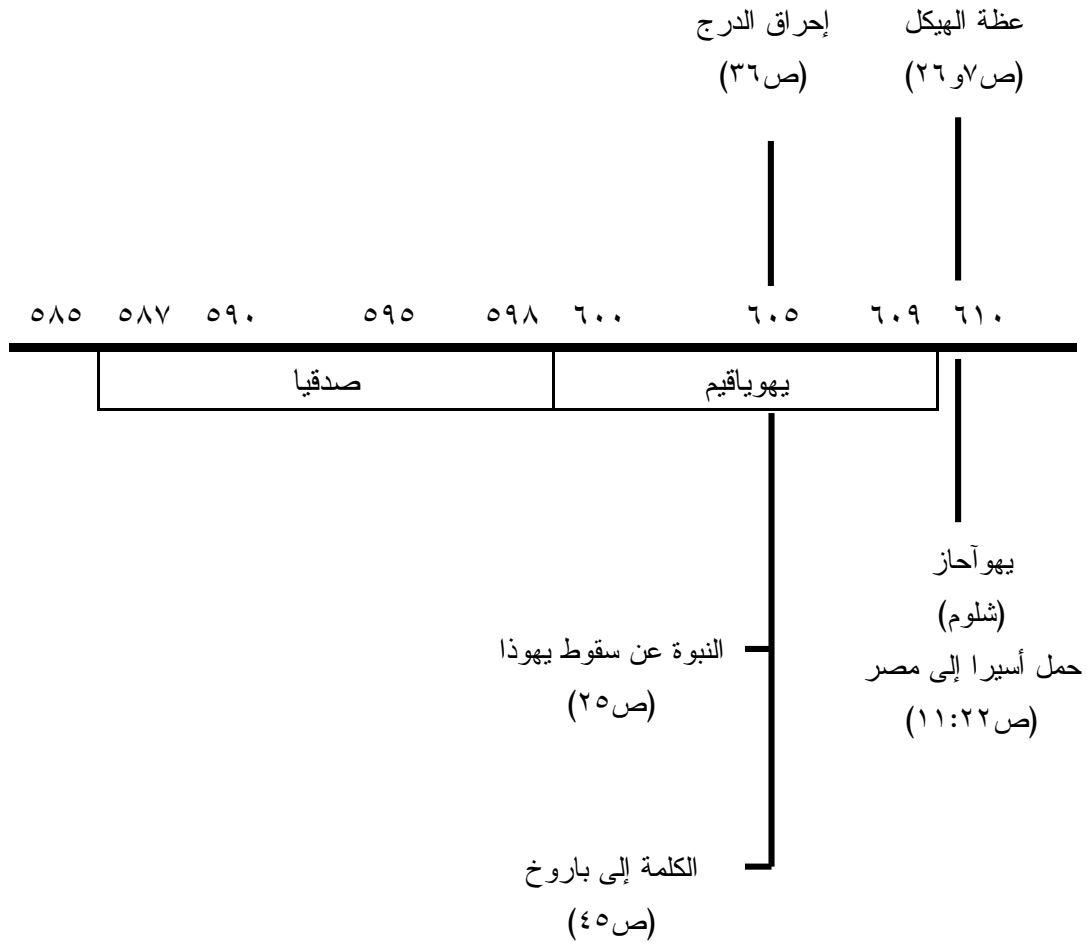
- خذ صفحة بيضاء وارسم عليها خطأ يصلح للتواريخ وأن يكون طوله (٢٥ سم) لتضع عليه التواريخ من سنة ٦١٠ ق.م. إلى سنة ٥٨٥ ق.م. إن هذا يعني تخصيص (٥ سم) لكل خمس سنين. واكتب التواريخ التالية في أماكنها على الخط الذي ترسمه:



- أضف طوقاً مستطيلاً ضيقاً تحت هذا الخط بحيث يمتد من سنة ٦٠٩ ق.م. إلى سنة ٥٩٨ ق.م. ومن سنة ٥٩٨ ق.م. إلى سنة ٥٨٧ ق.م. فيصبح طوقين. فيهما حكم يهوياقيم ثم حكم صدقيا كما يلي:



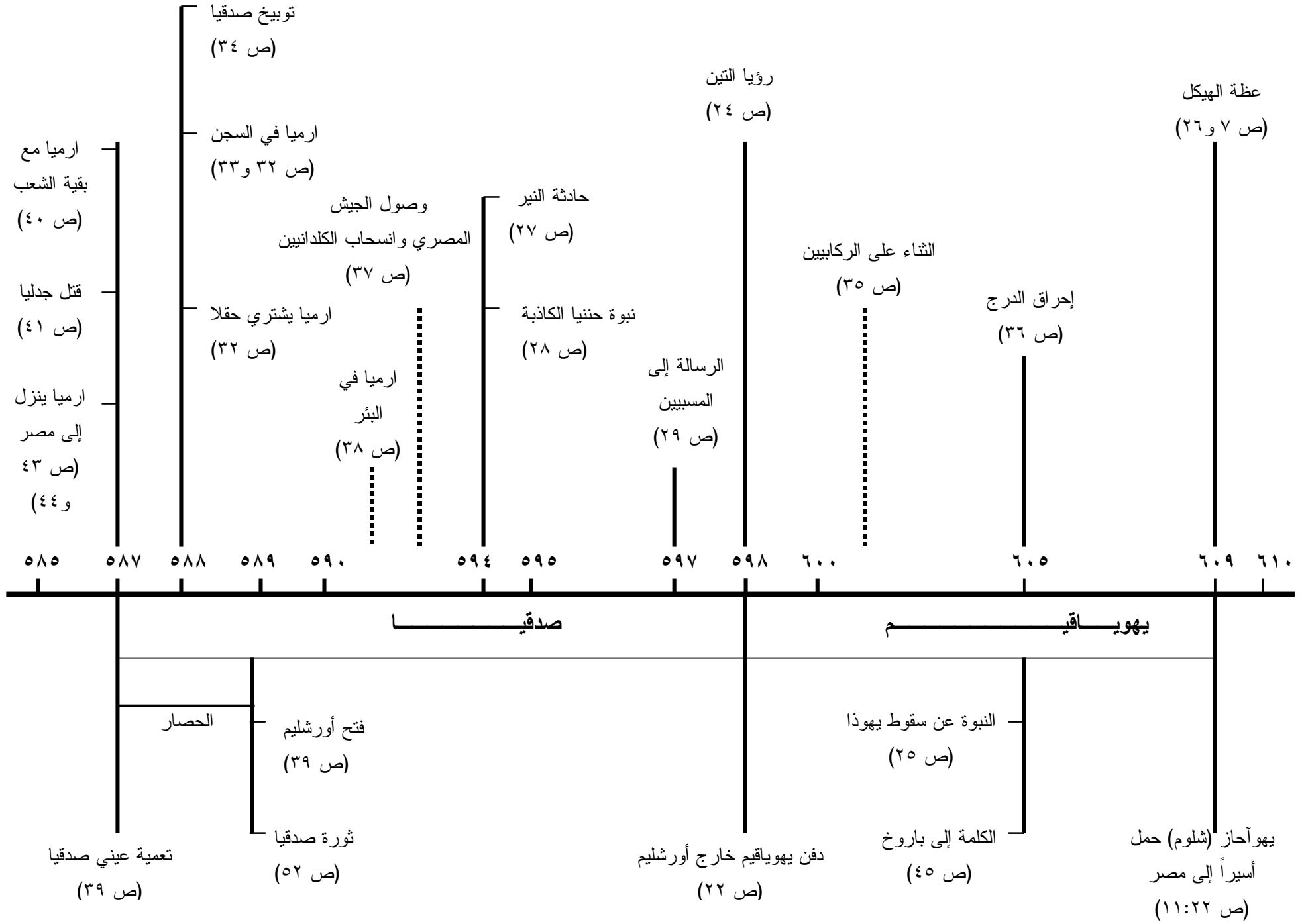
- الآن استخدم ملخصك الذي ملأته في (البند ٣) من هذا الدرس، واملأ المخطط. سأبين لك كيف تفعل ذلك بوضع أربعة إدخلات وأنت تتمم الباقي:



هناك حادثتان، على الأقل، لا سبيل إلى معرفة تاريخ كل منهما بالضبط (ولو بالتقريب بضع سنوات). لذلك اقترح أن تضع هاتين في فترة الحكم الصحيحة ولكن باستخدام الخط المتقطع.

*** راجع خريطةك (أي مخطّطك التاريخي) بعد إتمامه بالمقارنة مع المخطّط الذي نضعه لك.





الأجوبة:

- ١- نثر ؛ شعر
- ٢- النبي ارميا
- ٤- السنوات الأخيرة من خدمة ارميا.
- ٥- صدقيا
- ٦- إلى حد بعيد
- ٧- ٣٥ ، ٣٦ ، ٤٥
- ٨- غير مؤسس
- ٩- إجابتي "لا" ؛ السبب: أن القاعدة ليست عريضة بما يكفي لتغطية السفر كله، والنبوات لا تتضمن إلا نادراً أية إشارة إلى التاريخ أو الزمن بحيث تمكننا من وضعها على قاعدة تاريخية.

